

باسمه تعالی

اداره آموزش و پرورش شهرستان خوی

آزمون: ریاضی پایه دوم نوبت اول

دبستان: اسدالله امید

نام و نام خانوادگی:

طراح: امید رحمانی


تاریخ آزمون:/...../1400

مدت آزمون: 45 دقیقه

1- هر کدام از شکل ها چه عددی را نشان می دهند؟



الف



ب



ج

2- در جای خالی عدد مناسب بنویسید.

..... و و 50 و 30 (الف)

..... و 15 و 10 (ب)

..... و 50 و 40 (ج)

3- یکان و دهگان اعداد زیر را در جدول ارزش مکانی نشان بده؟

11

28

99

4- عدد های دو رقمی را به عدد و حروف بنویسید؟

الف) رقم یکان 4 و رقم دهگان 7: به حروف

ب) رقم یکان 3 و رقم دهگان 5: به حروف

5- زهرا 39 عکس دارد. 23 تا از عکس ها رنگی و بقیه سیاه و سفید هستند. زهرا چند عکس سیاه و

سفید دارد؟

6- امروز روز یازدهم ماه است. 4 روز بعد، چه روزی از ماه است؟ ماه است.


7- الگورا رو به عقب بشمار؟

ب) 28 - - - 7

الف) 25 - - - 5



8- الگوها را بشمار و بنویس؟




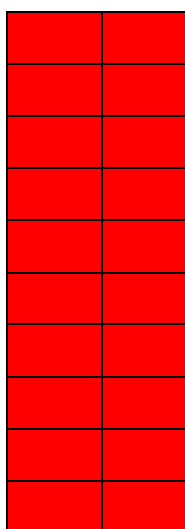
الف)

ب)

9- با رقم 0، 9، 3 اعداد دو رقمی بنویسید؟

جزوه سیتی

10- برای شکل‌های زیر جمع و تفریق بنویس؟



الف) + =

ب) - =

1-الف-4 ب-4 ج-7

2-الف-70-90 ب-20-25 ج-60-70

-3

دهگان	یکان
1	1
2	8
9	9

4-الف-74-هفتاد و چهار ب-53-پنجاه و سه

5- $23-39=16$ جزوه سیپی

6- $4+11=15$

7-الف-10-15-20 ب-14-21

8-الف-12 ب-15

9- 30-33-39-90-93-99

10- الف $20+4=24$ ب $30-10=20$